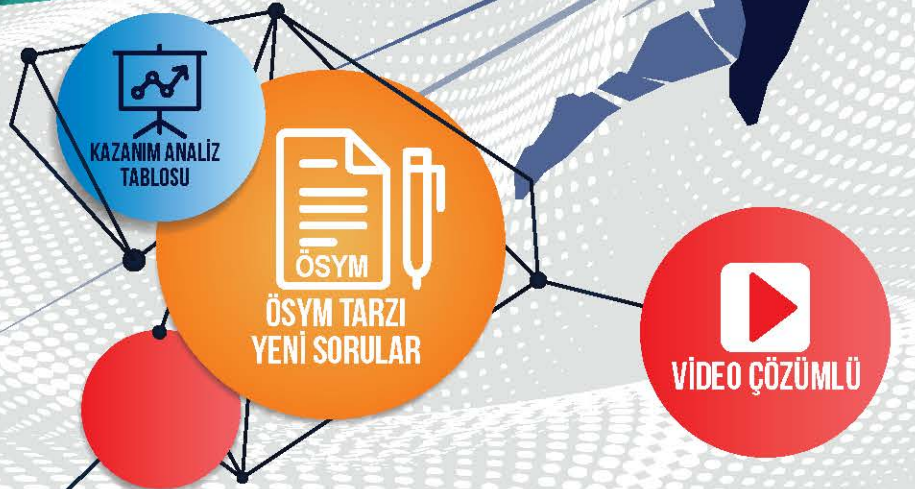


40x10 AYT

YUSUF KILIÇ TARİH Denemeleri

YUSUF DOLUAY ■



1

Hız ve Renk Branş Denemeleri sınavdan önce hatalarınızı görebilmeniz ve eksiklerinizi giderebilmeniz için sizlere büyük bir imkan sunuyor.

2

Denemeyi uyguladıktan sonra, denemelerin başında bulunan "kazanım tablosundan" yanlış yaptığınız ya da boş bıraktığınız soruların konularını tespit edebilirsiniz.

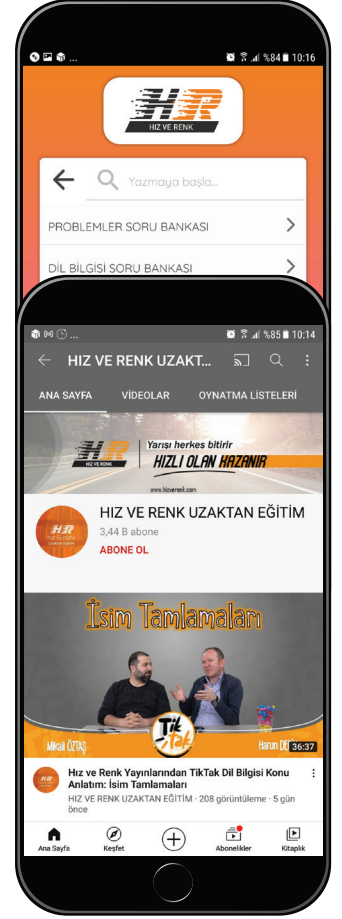
3

Hız ve Renk Uzaktan Eğitim Kanalı'nda konu anlatımı ve daha fazlasını bulacaksınız.



4

Hız ve Renk uygulamasından ya da Hız ve Renk yayınları web sayfasından soru çözüm videolarını Hız ve Renk yazarlarından dinleyebilirsiniz.



01

ÖĞRETMEN ÜYELİĞİ SEÇİMİ İLE SİSTEME ÜYELİK FORMUNU DOLDURUNUZ.

02

SİSTEME GİRİŞ YAPARAK DİJİTAL İÇERİKLERİNİZİ İSTEDİĞİNİZ YERE İNDİREBİLİRSİNİZ.

03

İNTERNETE BAĞLI OLSUN VEYA OLMASIN DİLEDİĞİNİZ PLATFORMLARDA İÇERİKLERİMİZİ KULLANABİLİRSİNİZ.

04

İSTEDİĞİNİZ SORULARLA KENDİ TESTİNİZİ OLUŞTURABİLİRSİNİZ.

www.lisedestek.com

✓ Ücretsiz Öğrenci – Öğretmen Üyeligi

✓ Akıllı Tahta Uygulamaları (Bilgisayar - Tablet - Telefon)

✓ Kolay Erişilebilir Dijital İçerik

✓ Müfredata Uygun Soru Havuzu





Copyright © Bu kitabın her hakkı saklıdır.

Hangi amaçla olursa olsun, bu kitabın tamamının ya da bir kısmının, kitabı yayımlayan yayınevinin önceden izni olmaksızın elektronik, mekanik, fotokopi ya da herhangi bir kayıt sistemi ile çoğaltılması, yayımlanması ve depolanması yasaktır.



www.hizrenk.com



hizrenk@isler.com.tr



[@hizverenk](https://www.instagram.com/hizverenk)

Değerli Üniversite Adayları,

Üniversite hazırlıkta eksikleri tespit etmek, bu eksikleri giderecek bir anlayışla konu tekrarı yapmak ve çalışmalarını buna göre planlamak başarılı bir sonuç almanın temel prensibidir. Sınav maratonunda özellikle “Deneme Sınavları” çalışmalarınızın sonuçları ve durumunuz hakkında size en net bilgileri veren kaynaklardır.

Hız ve Renk Yayınları Branş Denemeleri, çalışmanız ve tekrar etmeniz gereken konuları belirleyebilmeniz, eksiklerinizi giderebilmeniz için sizlere yardımcı olmak amacıyla her denemeye “Konu Analiz Tablosu” ilave edilerek hazırlanmıştır.

Yanlış yaptığınız ya da boş bıraktığınız sorulardan hareketle “Konu Analiz Tablosu”ndan eksiklerinizi belirleyerek çalışmanız gereken konuları tespit edebilirsiniz. Bu analiz ve tespitler netlerinizin düzenli bir şekilde artmasında önemli bir yere sahiptir. Her denemeden sonra “Konu Analiz Tablosu”nu doldurmayı bir alışkanlık hâline getirmeniz, başarınızın katlanmasını ve devamlılığını sağlayacaktır.

Başarılarınızda pay sahibi olabilmek HIZ VE RENK YAYINLARI olarak bizim en büyük mutluluğumuz olacaktır.

Başarılı ve sağlıklı bir ömür dileğiyle...

HIZ VE RENK YAYINLARI

İÇİNDEKİLER

	Sayfa
MAVİ HIZ DENEMELERİ	
1. DENEME	7
2. DENEME	9
3. DENEME	11
4. DENEME	13
5. DENEME	15
6. DENEME	17
7. DENEME	19
8. DENEME	21
9. DENEME	23
10. DENEME	25
KIRMIZI HIZ DENEMELERİ	
1. DENEME	29
2. DENEME	31
3. DENEME	33
4. DENEME	35
5. DENEME	37
6. DENEME	39
7. DENEME	41
8. DENEME	43
9. DENEME	45
10. DENEME	47
TURUNCU HIZ DENEMELERİ	
1. DENEME	53
2. DENEME	55
3. DENEME	57
4. DENEME	59
5. DENEME	61
6. DENEME	63
7. DENEME	65
8. DENEME	67
9. DENEME	69
10. DENEME	71
11. DENEME	73
12. DENEME	75
13. DENEME	77
14. DENEME	79
15. DENEME	81
16. DENEME	83
17. DENEME	85
18. DENEME	87
19. DENEME	89
20. DENEME	91
CEVAP ANAHTARI	93



MAVİ HIZ DENEMELERİ

Süreniz
9
dakikadır.
Konu analiz
tablosunu
doldurmayı
unutmayınız.

1

KONULAR - KAZANIMLAR

	D	Y
1		
2		
3		
4		
5		
6		
7		
8		
9		
10		

2

KONULAR - KAZANIMLAR

	D	Y
1		
2		
3		
4		
5		
6		
7		
8		
9		
10		

3

KONULAR - KAZANIMLAR

	D	Y
1		
2		
3		
4		
5		
6		
7		
8		
9		
10		

4

KONULAR - KAZANIMLAR

	D	Y
1		
2		
3		
4		
5		
6		
7		
8		
9		
10		

5	KONULAR - KAZANIMLAR	D	Y
1	Bilim Dalı Olarak Tarih		
2	Orta Asya Türk Devletlerinin Komşularıyla İlişkisi		
3	Dört Halife Dönemi		
4	Kösedağ'dan Sonra Kurulan Anadolu Türk Beylikleri		
5	Osmanlı'da Modern Ordu Kurma Çabaları		
6	Osmanlı'da Azınlık İsyânları		
7	XIX. ve XX. Yüzyılda Osmanlı'da Toprak Kayıpları		
8	Atatürk İlkeleri		
9	Çok Partili Hayata Geçiş Denemeleri		
10	II. Dünya Savaşı'ndan Sonra Dünya		

6	KONULAR - KAZANIMLAR	D	Y
1	Anadolu'da Tarih Öncesi Yerleşim Alanları		
2	İslam Öncesi Türk Toplum Yapısı		
3	Büyük Selçuklu Dönemi Siyasi Gelişmeleri		
4	Osmanlı Beyliği'nin Kuruluşu		
5	Osmanlı Devleti'nin Kara ve Deniz Politikaları		
6	II. Mehmet Dönemi		
7	I. Dünya Savaşı'nda Osmanlı		
8	Cumhuriyetin İlanı		
9	Çok Partili Hayata Geçiş Denemeleri		
10	Türkiye'de Askerî Darbeler		

7	KONULAR - KAZANIMLAR	D	Y
1	Türklerin Kullandığı Takvimler		
2	Orta Asya Türk Devletlerinin Komşularıyla İlişkisi		
3	Türk ve Türk-İslam Devletleri		
4	Kösedağ Savaşı'ndan Sonra Kurulan Türk Beylikleri		
5	Osmanlı'da Divan-ı Hümayun		
6	Milli Mücadele'de Kongreler		
7	Atatürk İlkeleri		
8	Hukuk Alanında Yapılan İnkılaplar		
9	Atatürk Dönemi Türk Dış Politikası		
10	İki Kutuplu Dünya		

8	KONULAR - KAZANIMLAR	D	Y
1	Tarihin Diğer Bilim Dallarıyla İlişkisi		
2	Türklerin İslam Dünyasına Hizmetleri		
3	Abbasiler ve Türkler		
4	Yerleşme ve Devletleşme Sürecinde Selçuklu Türkiyesi		
5	Osmanlı Devleti'nin Siyasi Varlığına Yönelik Tehditler		
6	Mustafa Kemal'in Hayatı		
7	Atatürk'ün Ölümü		
8	Atatürkçü Düşünce		
9	Atatürk Dönemi Türk Dış Politikası		
10	1950'li Yıllarda Türkiye		

9	KONULAR - KAZANIMLAR	D	Y
1	Zamanın Taksimi		
2	İslam Öncesi Türklerde Dini Hayat		
3	Hız. Muhammed Dönemi		
4	Oğuz Göçleri ve Anadolu		
5	Avrupa'da Rönesans ve Reform		
6	XIX. ve XX. Yüzyılda Osmanlı'da Toprak Kayıpları		
7	Mustafa Kemal'in Hayatı		
8	Siyasi Alanda Yapılan İnkılaplar		
9	İki Savaş Arası Dönemde Dünya		
10	Türkiye'de Askerî Darbeler		

10	KONULAR - KAZANIMLAR	D	Y
1	Zamanın Taksimi		
2	Avrupa Hun Devleti		
3	Hız. Muhammed Dönemi		
4	Osmanlı'nın Anadolu Türk Siyasi Birliği Sağlama Faaliyetleri		
5	Klasik Çağ'da Osmanlı Mimarisi		
6	Lale Devri Yenilikleri		
7	Siyasi Alanda Yapılan İnkılaplar		
8	Atatürk Dönemi Türk Dış Politikası		
9	Atatürk İlkeleri		
10	II. Dünya Savaşı		

1. Bu testte 10 soru vardır.
2. Cevaplarınızı, cevap kâğıdının Tarih Testi için ayrılan kısmına işaretleyiniz.

1.



Dünyanın en eski halılarından olan Pazyırık Halısı, motifleri ve desenleriyle Türk tarihi hakkında bilgi vermektedir.

Bu halının tarih biliminin araştırma alanına girmesi ve bilgi edinilmesi sürecinde aşağıda verilen bilim dallarından hangilerinden yararlanılmıştır?

- A) Arkeoloji – Antropoloji
- B) Arkeoloji – Etnoğrafya
- C) Arkeoloji – Heraldik
- D) Nüvizmatik – Diplomasi
- E) Etnoğrafya – Paleografya

2. “Oğuz Kağan Destanı” ile ilgili son dönemde yapılan çalışmalar neticesinde bahsi geçen Türk hükümdarın aşağıdakilerden hangisi olduğu yönünde yoğun bir kanı oluşmuştur?

- A) Teoman
- B) Mukan Kağan
- C) Bumin Kağan
- D) Mete Han
- E) Bilge Kağan

3. Aşağıda verilen İslam devlet ve devlet başkanları ile başkent eşleştirmelerinden hangisi yanlış verilmiştir?

- A) Hz. Muhammed → Medine
- B) Hz. Ali → Küfe
- C) Muaviye → Şam
- D) Abbasiler → Bağdat
- E) Yezit → Taif

4. “Benim gücümün ulaştığı yerlere sizin hayaliniz ulaşamaz.” diyerek Mora’dan İtalya’ya kadar birçok toprak elde eden Osmanlı padişahı aşağıdakilerden hangisidir?

- A) Çelebi Mehmet
- B) Yıldırım Bayezid
- C) II. Murad
- D) II. Mehmed
- E) Kanuni Sultan Süleyman

5. Devşirme Sistemi içinde Acemi Ocağı’nda eğitim gören gençler yeteneklerine göre Kapıkulu askerî ocaklarına dağıtılırdı.

Aşağıdakilerden hangisi Kapıkulu askerî ocakları içinde yer almaz?

- A) Yeniçeri Ocağı
- B) Topçu Ocağı
- C) Cebeci Ocağı
- D) Sağ ve Sol Ulufeciler
- E) Akıncılar



6. Avrupa'da XVI. ve XVII. yüzyılda bir ülkenin zenginliğini toprak sahibi olmaya değil, sahip olduğu altın ve gümüş miktarına bağlayan ekonomi modelidir.

Tanımı yapılan kavram aşağıdakilerden hangisidir?

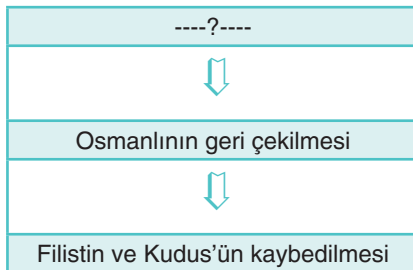
- A) Rasyonalizm
B) Makyavelizm
C) Merkantilizm
D) Emperyalizm
E) Hümanizm

7. Osmanlı Devleti'nin ilk anayasası olan Kanuni Esasi'nin bir anda uygulamaya konulduğu söylenemez. Öncesinde var olan uzun bir sürecin sonucudur Kanuni Esasi.

Osmanlı Devleti'nde anayasalaşma süreci aşağıdakilerden hangisi ile başlamıştır?

- A) Tanzimat Fermanı
B) Islahat Fermanı
C) I. Meşrutiyetin ilanı
D) II. Meşrutiyetin ilanı
E) Lale Devri

8.



Şekilde soru işaretinin olduğu yere aşağıdakilerden hangisinin gelmesi gerekir?

- A) Yemen Cephesi
B) Hicaz Cephesi
C) Irak Cephesi
D) Kanal Cephesi
E) Suriye Cephesi

9. Balkan Devletleri, Almanya ve İtalya'nın yayılcı politikalarından endişe duyarak sınır güvenlikleri için işbirliği yaptılar. Bu sebeple 1934 yılında bazı Balkan devletleri Balkan Antantı'nı imzaladı.

Bu antantı imzalayan devletler arasında aşağıdakilerden hangisi yer almaz?

- A) Türkiye
B) Bulgaristan
C) Yunanistan
D) Romanya
E) Yugoslavya

H
I
Z
R
E
N
K

10. 14 Mayıs 1950 seçimleriyle başlayan Demokrat Parti'nin iktidarı kesintisiz olarak on yıl devam etti ve 27 Mayıs 1960 yılındaki askerî darbeye kadar sürdü. Bu dönemde modern tarım aletlerinin kullanılması, ekonomide özel teşebbüs oranının artması, karayolları yapımının hızlanması, özel araç sayısının artması, köylerde yaşam kalitesinin artması, şehirlerin hızlı bir şekilde büyümesi gibi gelişmeler yaşanmıştır.

Bu bilgilerden hareketle aşağıdakilerden hangisi söylenemez?

- A) Demokrat Parti ile Türkiye, Batı'dan uzaklaşarak içine kapalı bir politika izlemiştir.
B) 50'li yıllarda ortaya çıkan gelişmeler halkın yararına olmuştur.
C) Özel araç sayısının artması halkın alım gücünün arttığını gösterir.
D) Demokrat Parti antidemokratik yöntemlerle son bulmuştur.
E) Büyüyen şehirlerde çarpık kentleşme ve gecekondulaşma ortaya çıkmıştır.

1. Bu testte 10 soru vardır.
2. Cevaplarınızı, cevap kâğıdının Tarih Testi için ayrılan kısmına işaretleyiniz.

1. Çin, tarih boyunca dünya medeniyetine önemli katkılarda bulunmuştur.

Aşağıdakilerden hangisi bu katkılardan biri değildir?

- A) Para B) Kâğıt C) Barut
D) Pusula E) Matbaa

2. Türk Kültürü, Orta Asya'daki kadim kültürlerin etkileşiminden oluşmuştur.

Aşağıdakilerden hangisi Orta Asya'daki bu kadim kültürlerden biri değildir?

- A) Mançurya Kültürü
B) Anav Kültürü
C) Afanesyevo Kültürü
D) Karasuk Kültürü
E) Andronova Kültürü

3. Sahabeler Peygamberimizin sözünü ve talimatlarını eksiksiz olarak yerine getirmişlerdir. Ancak istisnai bazı durumlar da meydana gelmiştir. Okçuların yerini terk etmesi veya sahabelerin antlaşmayı imzaladığı için Hz. Peygamberi eleştirmeleri örnek olarak gösterilebilir. Bu durumlar Peygamberimizin sözünden çıkılmaması gerektiğinin pekişmesine neden olmuştur.

Peygamberimizin sözünden çıkılmaması gerektiğini pekiştiren durumlar arasında;

- I. Bedir Savaşı,
II. Uhud Savaşı,
III. Hudeybiye Antlaşması

gelişmelerinden hangilerinin varlığından söz edilebilir?

- A) Yalnız I B) Yalnız II C) I ve II
D) II ve III E) I, II ve III

4. 1072-1202 yılları arasında Erzurum merkez olmak üzere Kars, Oltu, Bayburt, Malazgirt ve Artvin civarında hüküm sürmüştür. Gürcülerle mücadele etmişler, Türkiye Selçuklularıyla iyi ilişkiler kurmuşlardır. Mimaride, sanatta ve kültürde önemli atılımlar gerçekleştiren bu beylik, sanat anlayışlarıyla diğer Türk beylik ve devletlerini etkilemiştir.

Bilgisi verilen Türk beyliği aşağıdakilerden hangisidir?

- A) Artuklular
B) Saltuklular
C) İsfendiyaroğulları
D) Dulkadiroğulları
E) Candaroğulları

5. Osmanlı'nın dış politikası beş döneme ayrılabilir:

- I. Bizans ile iyi ilişkiler kurma
II. Bizans tekfurlarıyla mücadele etme
III. Topraklarını genişletme
IV. Kaybettiği toprakları geri alma
V. Elindeki toprakları koruma

1718 Pasarofça Antlaşması ile Osmanlı Devleti'nin Avrupa'nın gerisinde olduğunu kabul ettiği dikkate alınır, bu antlaşmadan sonra dış politikada kaç numaralı politikayı uyguladığı söylenebilir?

- A) I B) II C) III D) IV E) V



6. Aşağıdakilerden hangisi Osmanlı Devleti'nin sanayileşmesinin önündeki engellerden değildir?

- A) Balta Limanı Ticaret Antlaşması
- B) Kapitülasyonlar
- C) Demiryolu inşasına ağırlık verilmesi
- D) Bilgi ve tecrübe eksikliği
- E) Avrupa mallarıyla rekabetin yakalanamaması

7. Bir tarih meraklısı olan Mustafa Kemal'in bu merakında hocası Kolağası Mehmet Tevfik Bey'in etkisi büyüktür. Mustafa Kemal, yıllar sonra: "Minnet borcum var, bana yeni bir ufuk açtı." diyerek ondan saygıyla söz etmiştir.

Mustafa Kemal'in tarihe karşı ilgisinin başladığı dönem aşağıdakilerden hangisidir?

- A) Selanik Askerî Rüştiyesinde okuduğu dönem
- B) Manastır Askerî İdadisinde okuduğu dönem
- C) Harp Okulunda okuduğu dönem
- D) Harp Akademisinde okuduğu dönem
- E) Sofya'da ateşemiliterliği yaptığı dönem

8. Yeni Türk Devleti'nin ilk anayasası olan Teşkilatı Esasi'nin;

- I. Egemenliği millete vermesi,
- II. Yasama, yürütme ve yargı yetkilerini TBMM'de toplaması,
- III. Türkiye Devleti'nin TBMM tarafından yönetildiğini belirtmesi

esaslarından hangilerinin Türk tarihinde ilk defa uygulanan durumlardan olduğu söylenebilir?

- A) Yalnız I
- B) Yalnız II
- C) I ve III
- D) II ve III
- E) I, II ve III

9. Mustafa Kemal Dönemi'nde İtalya'nın Habeşistan'ı işgal etmesi ve doğu ülkelerini hedef alan yayılmacı siyaseti üzerine Türkiye öncülüğünde İran, Irak ve Afganistan arasında oluşturulan iş birliği antlaşması aşağıdakilerden hangisidir?

- A) Balkan Antantı
- B) Locarno Antlaşması
- C) Briand-Kellog Paktı
- D) Sadabat Paktı
- E) Kafkasya Paktı

10. II. Dünya Savaşı çok önemli sonuçlar ortaya çıkarmıştır.

Aşağıdakilerden hangisi bunlardan biri değildir?

- A) Dünya, Batı ve Doğu olmak üzere iki bloğa ayrıldı.
- B) Elli milyondan fazla insan hayatını kaybetti.
- C) Dünya barışının korunması için Cemiyeti Akvam kuruldu.
- D) İlk defa kullanılan atom bombasının yıkıcı etkileri yıllar boyu kendini göstermiştir.
- E) Göç eden milyonlar nedeniyle mülteci sorunları ortaya çıktı.

1. Bu testte 10 soru vardır.
2. Cevaplarınızı, cevap kâğıdının Tarih Testi için ayrılan kısmına işaretleyiniz.

1. Yazıyı ilk kullanan medeniyet Sümerlilerdir. Ziggurat denilen tapınaklarda rahiplerin kayıt tutma ihtiyacı sonucu ortaya çıkmıştır. Geliştirdikleri piktografik yazı genellikle basit şekillerden oluşmuştur.

Sümerlerin yazıyı icat etmelerinde aşağıdaki faktörlerden hangisinin etkisi daha fazla olmuştur?

- A) Ticaret B) Din C) Hukuk
D) Savaşlar E) Zanaat

2.

I. Mısır

II. Fenike

III. Çin

IV. Frig

V. Sümer

Günümüzde kullanılan yazı, alfabe, kâğıt ve matbaanın gelişimine yukarıdaki medeniyetlerden hangisinin katkı yaptığı söylenemez?

- A) I B) II C) III D) IV E) V

3. Hz. Muhammed (s.a.v.), Mekke ve Medine'deki yaşamında, peygamberlik görevinden önce ve sonra toplumda hep önde, hep lider idi.

Aşağıdakilerden hangisi Peygamberimizin önder olmasına örnek olabilecek durumlardan biri değildir?

- A) Gençliğinde Mekke'deki kabile anlaşmazlıklarında hakem tayin edilmesi
B) Eşine karşı latif ve merhametli olması
C) Medine İslam Devletinin siyasi lideri olması
D) Yapılan savaşlarda başkomutan olması
E) Mescidi Nebevi'de imamlik yapması

4. İstanbul'un Fethi ile ilgili en çok dile getirilen olay Fatih'in gemileri Haliç'e karadan yürütmesidir.

Kuşatma sırasında Fatih'in böyle bir yola başvurmasının nedeni aşağıdakilerden hangisidir?

- A) Bizans'ın "Grejuva" denilen ateşe sahip olması
B) Avrupalıların yardım etmesini önlemek istemesi
C) Bizans'ın Haliç girişini zincirle kapatması
D) Macaristan'ın daha önce yapılan anlaşmayı bozması
E) Osmanlı donanmasının yetersiz olması

5. Osmanlı Devleti XVII. yüzyılda bazı devletlerle ilk defa diplomatik ilişki kurmuş ve askerî mücadelelerde bulunmuştur.

Aşağıdakilerden hangisi Osmanlı'nın XVII. yüzyılda ilk defa ilişki kurduğu veya savaştığı devletlerden biridir?

- A) Lehistan B) Avusturya C) Fransa
D) Rusya E) Venedik

6. Osmanlı Devleti aldığı dış borçları ödeyemez duruma gelince Avrupalı devletler tarafından borçlara karşılık devlet gelirlerine haciz koymak üzere oluşturulan kurum aşağıdakilerden hangisidir?

- A) İmtiyazı Mahsusa
B) Düyunu Umumiye İdaresi
C) Rüsum-ı Sitte İdaresi
D) Muharrem Kararnamesi
E) Memleket Sandıkları



7. Mustafa Kemal öğrenim hayatından beri tarih bilimine ayrı bir önem vermiştir. Cumhuriyetin ilk yıllarında da Türk tarihi çalışmalarına bizzat öncülük etmiştir. 1931'de açılan Türk Tarihi Tetkik Cemiyeti ile bu çalışmalar bilimsel temele oturulmuştur.

Türk Tarihi Tetkik Cemiyeti'nin açılmasının amaçları arasında aşağıdakilerden hangisi yer almaz?

- A) Batı ile etkileşimi artırmak
- B) "Türk Tarih Tezi"ni oluşturmak
- C) Mili kimlik oluşumuna katkı sağlamak
- D) Toplumda birlik ve beraberliği artırmak
- E) İslam öncesi Türk tarihi ile ilgili daha fazla araştırma yapmak

8. I. İnönü Muharebesi, sonuçları itibari ile büyük önem taşımaktadır.

Aşağıdakilerden hangisi I. İnönü Muharebesinin sonuçlarından değildir?

- A) İstiklal Marşı'nın kabul edilmesi
- B) Mudanya Ateşkesi'nin imzalanması
- C) Londra Konferansının düzenlenmesi
- D) Teşkilat-ı Esasi'nin kabulü
- E) Afganistan ile dostluk antlaşması imzalanması

9. Cumhuriyet Dönemi'nde yapılan inkılaplar, ilgili oldukları alanlara göre sınıflandırılmıştır.

Aşağıdakilerden hangisi siyasi alanda yapılan inkılaplardan biri değildir?

- A) Saltanatın kaldırılması
- B) Ankara'nın başkent olması
- C) Cumhuriyetin İlanı
- D) Halifeliğin kaldırılması
- E) Tevhidi Tedrisat Kanunu'nun çıkarılması

10. 1948-1949 Arap-İsrail Savaşı, Orta Doğu'nun yapısını değiştiren şu sonuçları doğurdu:

- Bir milyon kadar Filistinliyi yerinden yurdundan etmiş ve hala devam eden Mülteciler Meselesi ortaya çıkmıştır.
- Mısır'da Kral Faruk rejimi askerî bir darbeye devrilmiştir.
- İsrail'e karşı alınan yenilgi Arap dünyasında milliyetçilik duygusunu harekete geçirerek İsrail'e duyulan öfkeyi ve düşmanlığı artırmıştır.

Buna göre Arap-İsrail Savaşı'nın aşağıdakilerden hangisine neden olduğu söylenemez?

- A) Yeni bir dünya savaşı tehlikesinin ortaya çıkmasına
- B) Mülteci sorunlarının ortaya çıkmasına
- C) Komşu ülkelerde karışıklıklar yaşanmasına
- D) Bölgede milliyetçilik duygularının artmasına
- E) Günümüzde var olan problemleri ortaya çıkarmasına

1. Bu testte 10 soru vardır.
2. Cevaplarınızı, cevap kâğıdının Tarih Testi için ayrılan kısmına işaretleyiniz.

1. Beyza Öğretmen tarih dersinde öğrencilere birer takvim hazırlamalarını ve takvimleri anlatmalarını istedi:

Mehmet: Benim takvimim güneş yılı esaslıdır. Yıl isimlerine hayvan adları vererek 12 li olarak gruplandırdım. Ay isimlerini de bugünkü gibi yaptım.

Ayşe: Benim takvimim ay yılı esaslıdır. Başlangıç olarak doğum günümü esas alır. Ay isimlerine de arkadaşlarımın ismini verdim.

Berkan: Benim takvimim güneş yılı esaslıdır. Başlangıç olarak Hicret'i esas aldım. Romalıların Jülyen Takviminden etkilendim. Ekonomi amaçlı yaptığım bir takvimdir. Bu nedenle güneş yılını esas aldım.

Filiz: Benim takvimim de ay yılı esaslıdır. Başlangıç olarak ben de doğum günümü aldım. Ay isimleri olarak da aile fertlerinin isimlerini kullandım.

Kadir: Benim takvimim ay yılı esaslıdır. Hicrî Takvimin hemen hemen aynısıdır. Sadece ay isimlerini Türkçe olarak değiştirdim.

Beyza öğretmenin öğrencilerinin hangisinin yaptığı takvim Osmanlı'da kullanılan Rumî Takvimle en çok benzerlik gösterir?

- A) Mehmet B) Ayşe C) Berkan
D) Filiz E) Kadir

2. İlk Çağ'da Persler; İran, Anadolu, Mezopotamya, Mısır ve Yunanistan'ın bazı bölgelerini içine alan büyük bir imparatorluk kurmuşlardı. Bu kadar geniş toprakları yönetmek için de eyalet sistemini oluşturmuşlardı. Bu sistemde ülke eyaletlere ayrılmış ve iletişim içinde posta teşkilatı geliştirilmişti.

Perslerin kurduğu bu eyalet sistemi aşağıdakilerden hangisidir?

- A) Polis B) Satraplık C) Senato
D) Eklesia E) Nom

3. Moğollar 1243 Köseadağ Savaşı ile Türkiye Selçuklularını mağlup etmiş, Anadolu'da birçok şehri yağmalamışlardır. Şehir, kasaba ve köylerde maddi ve manevi kayıplar yaşanmıştır.

Anadolu'daki bu tahribatın giderilmesinde aşağıdaki unsurlardan hangisinin rolü olmamıştır?

- A) Anadolu erenlerinin
B) Gulam sisteminin
C) İkinci Dönem Anadolu Türk Beyliklerinin
D) Ahi Teşkilatının
E) Anadolu'daki vakıf geleneğinin

4. Osmanlı'da ilk zamanlarda veraset sisteminde "ülke hanedanın ortak malıdır" anlayışı geçerliydi.

- I. Murat veraset sistemini "ülke padişah ve oğullarının malıdır" şeklinde değiştirmiştir.
- XVII. yüzyılda ise tahta yaşça en büyük ve en akıllı şehzadenin geçmesi kararlaştırılmıştır.

Verilen bilgilere göre Osmanlı Devletinin veraset sisteminde değişikliğe gitmesinin;

- I. taht kavgalarını engelleme,
II. demokrasi rejimini egemen kılma,
III. daha modern yönetim yapısı oluşturma

amaçlarından hangilerini gerçekleştirmeye yönelik olduğu söylenebilir?

- A) Yalnız I B) Yalnız III C) I ve II
D) II ve III E) I,II ve III

5. Osmanlı Devleti XX. yüzyılda yaşadığı iç ve dış sorunlar sonucu toprak kaybetmiştir.

Aşağıda verilen olaylar ve toprak kayıpları eşleştirmelerinden hangisi yanlış verilmiştir?

Olay	Kaybedilen Toprak
A) II. Meşrutiyet'in ilanı	Bulgaristan
B) Balkan Savaşları	Makedonya
C) Uşi Antlaşması	Cezayir
D) II. Meşrutiyet'in ilanı	Bosna
E) I. Dünya Savaşı	Irak

6. Aşağıdakilerden hangisi I. Balkan Savaşı'na katılan devletler arasında yer almaz?

- A) Yunanistan
B) Sırbistan
C) Karadağ
D) Arnavutluk
E) Bulgaristan

7. Millî Mücadele aleyhine basın ve yayın yoluyla yapılan olumsuz propagandaları engellemek amacıyla kurulan millî cemiyet aşağıdakilerden hangisidir?

- A) Trakya-Paşaeli Müdafaa-i Hukuk Cemiyeti
B) Şark Vilayetleri Müdafaa-i Hukuk Cemiyeti
C) Kilikyalılar Cemiyeti
D) Millî Kongre Cemiyeti
E) Hürriyet ve İtilaf Fırkası

8. Türkiye Cumhuriyeti'nin ilk yıllarında kalkınmayı gerçekleştirecek özel sermaye yetersiz idi. Bu sebeple Mustafa Kemal, bazı yatırımların devlet eliyle yapılması ve devletin ekonomik faaliyetlerde düzenleyici ve denetleyici olabilmesi için devletçilik ilkesi doğrultusunda hareket etmiştir.

Aşağıdaki inkılaplardan hangisi bu doğrultuda yapılanlardan biri değildir?

- A) Aşar vergisinin kaldırılması
B) Devlete ait fabrikaların kurulması
C) Devlet bankalarının kurulması
D) İzmir İktisat Kongresi'nin düzenlenmesi
E) Beş yıllık kalkınma planlarının yapılması

9. Lozan Antlaşması'nda çözüme kavuşturulamayan ve daha sonra 5 Haziran 1926 Ankara Antlaşması ile çözülen Musul Meselesi, hangi Avrupa ülkesi ile Türkiye Cumhuriyeti arasında sorun oluşturmuştur?

- A) Almanya
B) SSCB
C) Fransa
D) İtalya
E) İngiltere

10. Türkiye son dönemlerde yoğun terör saldırıları ile mücadele etmektedir. Terör örgütleri özellikle komşu ülkelerdeki karışıklıklardan ve otorite zafiyetlerinden faydalanarak varlıklarını devam ettirmektedir. Bu durum sınır güvenliğimizi tehdit etmektedir. Teröre karşı yoğun önlem alınmakta, zaman zaman sınır ötesi operasyonlar yapılmaktadır.

Sınır güvenliğimizi tehdit eden oluşumların bulunduğu komşularımız arasında;

- I. Suriye,
II. Irak,
III. Gürcistan

Ülkelerinden hangileri yer alır?

- A) Yalnız I
B) Yalnız II
C) Yalnız III
D) I ve II
E) I,II ve III